

數學科五年級自學工作紙(三)

姓名： _____ () 日期： _____

班別： 五年級 _____ 班 成績： _____

小數加減

(一) 算算看。

1.
$$\begin{array}{r} 1.2 \\ + 0.9 \\ \hline \boxed{2.1} \end{array}$$

2.
$$\begin{array}{r} 18.0 \\ - 9.6 \\ \hline \boxed{8.4} \end{array}$$

3.
$$\begin{array}{r} 40.0 \\ - 23.4 \\ \hline \boxed{16.6} \\ - 5.6 \\ \hline \boxed{11.0} \end{array}$$

4.
$$\begin{array}{r} 2.41 \\ 3.02 \\ + 2.30 \\ \hline \boxed{7.73} \end{array}$$

5. $5.7 + 4.6 = \boxed{10.3}$

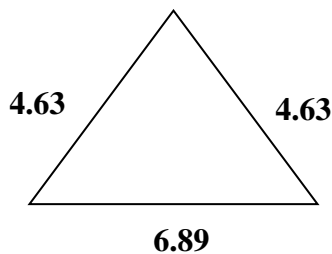
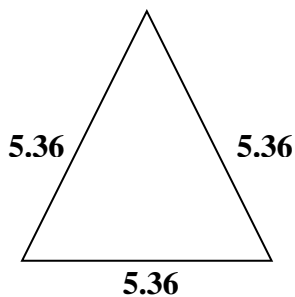
6. $\boxed{8.25} + 2.6 = 10.85$

7. $7.9 + 12.25 + 5.85 = \boxed{26}$

8. $8.81 - 0.44 - 3.45 = \boxed{4.92}$

以直式計算時要注意對齊小數點。

(二) 選擇題：把正確答案前○塗黑及塗滿。



9. 等邊三角形的周界是多少厘米？

- A. 13.34 ● B. 16.08 ○ C. 16.09 ○ D. 17.08

10. 等腰三角形的周界是是是多少厘米？

- A. 14.29 ○ B. 16.82 ● C. 16.15 ○ D. 17.15

(三)列式計算下列各題。

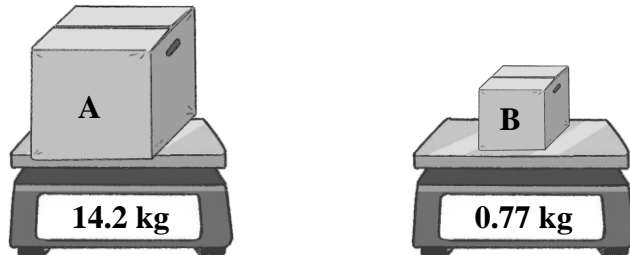
11. 建華家中有蘋果汁 2.23 升，橙汁 0.98 升，共有果汁多少升？

$$2.23 + 0.98$$

$$= 3.21 \text{ 升}$$

共有果汁 3.21 升

12.



(a) 依上圖，A 箱比 B 箱重多少 kg？

$$14.2 - 0.77$$

$$= 13.43$$

A 箱比 B 箱重 13.43 kg

(b) 如果 A 箱最多可盛載 20 kg 的貨物，則 A 箱最多還可多放貨物幾 kg？

$$20 - 14.2$$

$$= 5.8$$

A 箱最多還可多放貨物 5.8 (kg)

(四)挑戰題：把下面的算式加上小數點，組成正確的算式。

13.

$$96.3 - 9.63 = 86.67$$

14.

$$24.55 - 8.35 = 16.2$$